

第十三章 西歐

一、單選題

() 1. 北愛爾蘭紛爭不斷的主要原因是： (A)政黨糾紛 (B)民族複雜 (C)宗教信仰不同 (D)個性耿直。

解答 C

() 2. 下列有關「巴黎」之敘述，何者錯誤？ (A)是法國文化的櫥窗 (B)全國放射狀鐵、公路中心 (C)高科技工業以巴黎為中心 (D)工業產值占全國的 1/4 (E)是新興都市，也是純政治的都市。

解答 E

() 3. 德國的基爾運河是聯絡哪兩個水域之間的運河？ (A)易北河與威悉河 (B)波羅的海與北海 (C)北海與大西洋 (D)萊因河與多瑙河 (E)萊因河與埃母河。

解答 B

() 4. (甲)溫涼的氣候；(乙)起伏的山地；(丙)北美廉價小麥進口；(丁)畜產品利潤高；(戊)土壤貧瘠。以上何者為英國牧業重於農業的因素？ (A)甲乙丙丁戊 (B)甲乙丙丁 (C)甲乙丙 (D)甲乙 (E)甲丙戊。

解答 C

() 5. 被譽為英國的矽谷是在何處？ (A)倫敦至伯明罕間 (B)格拉斯哥至愛丁堡間 (C)曼徹斯特至利物浦間 (D)曼徹斯特至布拉福間 (E)伯明罕至多佛間。

解答 B

() 6. 法國西北部、中央山地西側等地以牧牛為主；中央山地東部、阿爾卑斯山南半部以牧羊為主，造成分布差異的主因是： (A)坡度大小 (B)市場遠近 (C)日照強弱 (D)雨量的多寡 (E)牧場規模。

解答 D

解析 迎西風坡多雨，利於飼養牛。

() 7. 萊因河與多瑙河均為歐洲源遠流長的大河，前者航利冠全球，而後者則否，差異之因與下列哪一因素有關？ (A)長度 (B)坡度 (C)深度 (D)流量 (E)流向。

解答 E

解析 多瑙河流向黑海（為半封閉海域），不利航行。

() 8. 西歐的氣候一般高於同緯度的其他地區，是全球著名的氣溫正偏差區，這與哪一地理要素有密切的關連？ (A)位於西風帶中 (B)有北大西洋暖流調節 (C)地勢普遍低平 (D)臨近副熱帶高壓 (E)都市化的熱島效應。

解答 B

() 9. 「蔗糖、可可加入牛奶，可製成巧克力和蛋糕，配上紅茶或咖啡，創造了歐洲人新的飲食習慣。」其中何者為歐洲自己的物產？ (A)蔗糖 (B)可可 (C)牛奶 (D)咖啡 (E)紅茶。

解答 C

() 10. 曼徹斯特成為英國「棉都」的有利條件是： (A)棉花產地 (B)鄰近消費市場 (C)具豐富水力 (D)勞力充足 (E)煤的產地。

解答 E

() 11. 好像歷史開的玩笑，歐洲昔日挾著財勢武力將基督教帶向世界，今天，不同的宗教卻隨潮流進入歐洲大陸，生根發芽。此為何種人文活動所造成？ (A)外勞的進入 (B)外交使節的進駐 (C)觀光客的消費 (D)新大陸移民的尋根潮 (E)藝術、學術的交流。

解答 A

() 12. 萊因河為歐洲航運最好的河流，德國人常暱稱該河為德國之父，全國近 1/3 的人口居住於此，為德國人口密度最高、工業最發達的地區。請問：德國產值最高的工業是： (A)鋼鐵 (B)汽車 (C)化學藥品 (D)光學儀器 (E)資訊。

解答 B

() 13. 歐洲貨幣聯盟於西元 1999 年正式實施「歐元」，達成使用統一有形貨幣的協議。但目前哪一個國家，並不能使用「歐元」？ (A)法國 (B)英國 (C)德國 (D)義大利 (E)西班牙。

解答 B

() 14. 右圖為何種船隻？

(A)北歐維京人的海盜船 (B)長江的沙船 (C)歐洲大探險時代的帆船 (D)南美洲的的喀喀湖的蘆葦舟 (E)澳洲休閒用的帆船。



解答 C

解析 由船外型及十字標示可以判斷為歐洲中世紀後的船隻。

()15. 十七世紀時英國農民紛紛將敞田改成圈田，易麥田為牧場，飼養綿羊，提供高級毛紡織業的原料。造成此種變遷的關鍵因素是： (A)運輸革新 (B)綠色革命 (C)都市興起 (D)人口激增 (E)氣候變遷。

解答 A

()16. 「地理大發現之後，美洲的玉米、菸草、馬鈴薯等農作物傳入歐洲，豐富了歐洲農業的內涵。」此現象最適宜用哪一概念說明之？ (A)綠色革命 (B)國際分工 (C)區域交流論 (D)空間交互作用 (E)擴散論。

解答 E

()17. 法國的交通系統呈放射狀，以下哪一個城市為中心？ (A)里昂 (B)馬賽 (C)波爾多 (D)聖德田 (E)巴黎。

解答 E

()18. 下列哪一個國家的人口密度最高？ (A)荷蘭 (B)法國 (C)英國 (D)德國 (E)愛爾蘭。

解答 A

()19. 下列哪一因素是造成西歐取代地中海區，成為歐洲文化重心的主要原因？ (A)羅馬帝國的興起 (B)工業革命的發生 (C)農業的興起 (D)兩次世界大戰的爆發 (E)優越的氣候條件。

解答 B

()20. 荷蘭畫家梵谷 (1853-1890年) 晚年住在法國南部，其名作「麥田」描繪葡萄、蔬菜等農作物受「米斯特拉風」吹襲而受損失。何謂米斯特拉風？ (A)夏天由地中海向北吹的暖風 (B)冬天由中央山地向南吹的冷風 (C)冬天由大西洋向東吹的冷風 (D)夏天由北海向南吹的暖風 (E)初春由地中海向北吹過山脈造成的焚風。

解答 B

()21. 地名可反應人類活動和地理環境的相互關係。下列地名中畫底線部分的原始意義，有哪些與人文活動的關係密切？(甲)vik(維京)；(乙)Oxford(牛津)；(丙)Rotterdam(鹿特丹)；(丁)Poland(波蘭)；(戊)Scandinavia(斯堪地那維亞)： (A)甲乙 (B)乙丙 (C)丙丁 (D)丁戊 (E)乙戊。

解答 B

()22. 今日全球最工業化和現代化的文化區是： (A)地中海文化區 (B)西歐文化區 (C)東歐文化區 (D)東亞文化區 (E)拉丁美洲文化區。

解答 B

()23. 冰河河谷的形成與哪一種工業發展條件最具直接關係？(甲)交通；(乙)動力；(丙)原料；(丁)土地；(戊)勞工。 (A)甲乙 (B)乙丙 (C)丙丁 (D)丁戊 (E)甲丁。

解答 A

()24. 國際航空的交通樞紐，也是德國門戶及國際貿易、金融中心的都市是： (A)柏林 (B)慕尼黑 (C)法蘭克福 (D)漢堡 (E)來比錫。

解答 C

()25. 德國在1990年12月統一，統一之前東、西德高度期待，但是在統一之後遇到的首要問題是： (A)語言 (B)政治 (C)經濟 (D)宗教 (E)社會差異問題，難以完全統合。

解答 C

()26. 英國是位於歐陸西側的島國，西臨大西洋，對外交通、貿易發達，尤其因屬標準的沉水海岸，港灣優良，具有以下的沉水海岸證據，但不包括： (A)谷灣 (B)溺谷 (C)峽灣 (D)島嶼 (E)海階。

解答 E

解析 海階為離水海岸的特徵。

()27. 位於歐陸中心，為東、西歐，南、北歐之十字路口，戰略地位十分重要的國家，指： (A)英國 (B)法國 (C)德國 (D)丹麥 (E)義大利。

解答 C

()28. 哪一國家陸運四通八達，河流、運河交接，為歐陸各國陸上交通樞紐？ (A)英國 (B)比利時 (C)德國 (D)荷蘭 (E)法國。

解答 C

()29. 奧地利的歷史充滿戲劇性，國土曾被許多民族入侵或吞併，這樣的變化主要導因是什麼？ (A)地形平坦 (B)種族複雜 (C)資源豐富 (D)位於東、西歐的樞紐位置 (E)宗教信仰不同。

解答 D

()30. 下表是地中海歐洲與西歐傳統的農業環境與經營的比較，請選出正確的項目： (A)甲乙 (B)甲丙 (C)乙丙 (D)丙丁戊 (E)甲乙丙丁戊。

| 項目 \ 地區 | | 地中海歐洲 | 西歐 |
|---------|------|---------------|---------------|
| 甲 | 自然環境 | 氣候乾燥， 土質黏重 | 氣候潮溼， 土質淺薄 |
| 乙 | 農具 | 重犁 | 淺犁 |
| 丙 | 耕作制度 | 二年輪耕 | 三年輪耕 |
| 丁 | 作物種類 | 穀物、果樹 | 穀物、飼料作物 |
| 戊 | 其他 | 農牧並行 | 農牧並行 |

解答 D

()31. 由牛津英文原名 Oxford，可得知此城市最早具有的都市機能是： (A)軍事 (B)交通 (C)政治 (D)宗教 (E)學術。

解答 B

()32. 小英的旅遊日記記載：「這裡是藝術家的天堂，大家在露天咖啡館裡談天，談論著貝聿銘建築大師的金字塔傑作，以及美術館內展覽的作品。除了這些藝術氣息，我對這個國家印象最深刻的另一觀光據點，是讓現代人夜晚狂歡的紅磨坊。」根據文字中對於該國的敘述，你認為小英所描述的應該是下列哪一個國家？ (A)希臘 (B)義大利 (C)奧地利 (D)英國 (E)法國。

解答 E

解析 此為巴黎的描寫。

()33. 看過神鬼傳奇 II 的同學應該對於右圖的鐵橋不陌生，請問：

此鐵橋位置的城市名稱，及橋下的河流名稱： (A)巴黎——塞納河 (B)埃及——尼羅河 (C)倫敦——泰晤士河 (D)德國——萊茵河 (E)德國——多瑙河。



解答 C

()34. 西歐得以取代南歐而成為西方世界的領導地區最主要是因該區何種地理條件所致？ (A)地形 (B)海洋 (C)氣候 (D)河運 (E)石油。

解答 B

()35. 橫貫德國北部低地，東西向的中央大運河，該運河主要係利用何種天然地形所開鑿？ (A)伏流 (B)槽湖 (C)冰磧湖 (D)U型谷 (E)外洗平原的流水河床。

解答 E

解析 此為冰河外洗平原區，B、C、D 皆為冰河上游地形特徵。

()36. 今日將德國各區連繫起來的是極有效率的運輸網，包括：(甲)高速公路；(乙)鐵路；(丙)運河，其發展的先後順序是： (A)甲乙丙 (B)甲丙乙 (C)乙甲丙 (D)乙丙甲 (E)丙乙甲。

解答 D

()37. 來自大西洋的暖溼盛行西風可以深入東歐，甚至到達亞洲腹地，主要因素是： (A)西風勢力強勁 (B)地球由西而東自轉 (C)西歐以至東歐地勢低平 (D)內陸地區有強勁的氣旋 (E)東歐多「大陸海」分布。

解答 C

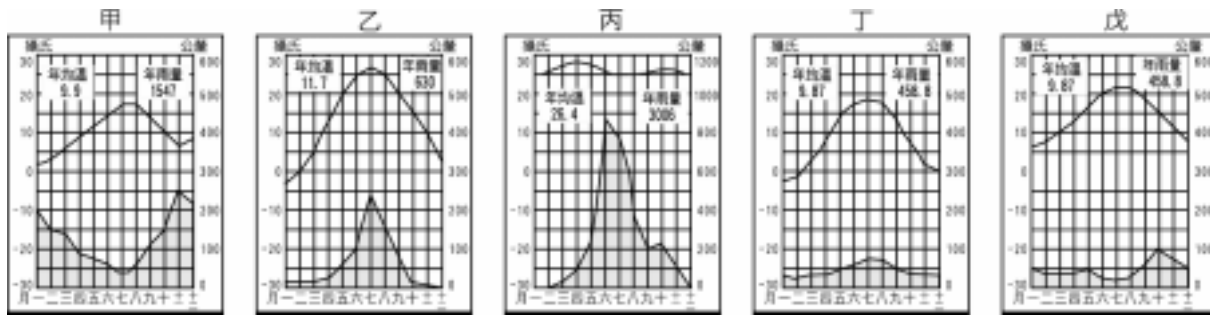
()38. (甲)均為溫帶海洋性氣候；(乙)均受北大西洋暖流的影響；(丙)均有峽灣海岸分布；(丁)均有新褶曲山之地形；(戊)均是歐洲共同體的

國家；(己)均是信奉新教。英法二國共同的特點包括：(A)甲乙丙戊 (B)甲乙丁己 (C)甲丙丁戊 (D)甲戊 (E)甲乙戊。

解答 E

解析 (丙)法國無峽灣；(丁)英國為古侵蝕地塊；(己)法國信奉舊教。

()39. 西歐氣候優良，全年溫和有雨，既無酷暑亦無寒冬，下圖中何者最能表現西歐氣候的特色？



解答 A

解析 海洋性氣候全年溼潤，秋冬雨量略多。

()40. 西歐無論在農業經營、工業發展及海上活動上，皆具備良好的舞臺，這是因為西歐擁有下列幾項優勢條件使然？(甲)氣候；(乙)地形；(丙)海洋；(丁)資源；(戊)交通。(A)1項 (B)2項 (C)3項 (D)4項 (E)5項。

解答 E

()41. 雖然西歐的農業經營已日趨專業化、集約化和科學化，但相對於新大陸的競爭，西歐農業所面臨的最大問題是：(甲)農產品生產過剩；(乙)農場規模較小；(丙)勞力短缺；(丁)土力枯竭；(戊)生產成本較高。(A)甲乙 (B)甲丙 (C)乙丙 (D)乙戊 (E)丙丁。

解答 D

()42. 西歐成為近代世界經濟核心的主要原因有：(甲)地大物博；(乙)交通發達，原料、成品運輸便利；(丙)勞工工資低廉；(丁)市場廣大，擴及世界其他地區；(戊)人口眾多，勞工充裕。以上正確的敘述是：(A)甲乙 (B)乙丙 (C)乙丁 (D)丙丁 (E)丁戊。

解答 C

()43. 在實施「敞田制」的歐洲西、北部地區，原本為二年輪耕的制度，後來轉變為三年輪耕制，其主要的原由是：(A)改用馬拖拉重犁耕田 (B)改用牛拖拉重犁耕田 (C)栽種的作物改變 (D)居民糧食需求增加 (E)耕作習慣改變。

解答 A

()44. 「海洋可說是歐洲賴以生存的命脈，而曲折的海岸線，廣大的大陸棚，更是開拓了歐洲人向外發展的視野，促使歐人成為重要的海外殖民者。」上文的描述最適合用來指稱歐洲的哪一個國家？(A)德國 (B)冰島 (C)英國 (D)義大利 (E)瑞士。

解答 C

()45. 請問西歐冬季降雨的型態最可能是下列何者？(A)對流雨 (B)氣旋雨 (C)地形雨 (D)鋒面雨。

解答 B

()46. 法國農產豐富的原因有：(甲)可耕地面積比例高；(乙)氣候優良無天災；(丙)適應各地自然環境的差異；(丁)長期休耕，地力肥沃；(戊)農場面積廣大，大規模經營。正確的敘述是：(A)甲乙 (B)甲丙 (C)乙丙 (D)乙丁 (E)丙戊。

解答 B

()47. 德國在二次大戰之後，幾乎成為廢墟，然而在戰後20年間，西德卻創造了西方人口中的「經濟奇蹟」，其中最主要的原因是：(A)德國盛煤、鐵等工業原料 (B)德國人實事求是，認真苦幹的毅力使然 (C)德國對外交通便利，有利產品外銷 (D)掌握世界科技脈動，優先發展高科技產業 (E)政府實行計畫性經濟，幫助經濟體質恢復。

解答 B

()48. 「我不在家，一定在咖啡館，我不在咖啡館，也一定在去咖啡館的路上。」像這樣的生活品味，最不可能出現在以下哪個國家？(A)德國 (B)法國 (C)英國 (D)荷蘭 (E)俄羅斯。

解答 E

()49. 「氣候涼溼，終年有雨」是歐洲哪一地區的氣候寫照？(A)北歐 (B)南歐 (C)東歐 (D)西歐 (E)中歐。

解答 D

()50. 西歐自古以來即因濱臨哪一漁場而漁業發達？(A)西北大西洋漁場 (B)東北大西洋漁場 (C)東南大西洋漁場 (D)西北太平洋漁場 (E)東北大西洋漁場。

解答 B

()51. 西歐成為全球冬溫最顯著的「正偏差」區，主係受何股洋流影響所致？(A)黑潮 (B)親潮 (C)加州涼流 (D)墨西哥灣流 (E)北大西洋洋流。

解答 E

()52. 西歐主屬平原地形，而平原向南向北漸次高起形成丘陵台地，請問這些高地因具有哪種豐富的礦產，得以成為歐洲重要的工礦帶？
(A)鐵砂 (B)銅礦 (C)煤礦 (D)石油 (E)天然氣。

解答 C

()53. 西歐東南側以阿爾卑斯山與義大利半島為界；山脈雖然高大但卻有多處低平谷地，方便兩地來往。造就這些谷地的營力主要是： (A)冰河刻蝕 (B)斷層陷落 (C)山地崩塌 (D)河川侵蝕 (E)人為開掘。

解答 A

()54. 英國的倫敦、比利時的安特衛普、荷蘭的鹿特丹、德國的漢堡等四處西歐大城市興起的共同原因是： (A)貿易 (B)礦產 (C)工業 (D)水運 (E)陸運。

解答 D

解析 此四城皆位於大河的出海口。

()55. 採取敞田制的地區，其農地皆作長條形，目的在於： (A)界線明確 (B)產權清楚 (C)傳統習俗 (D)利於耕作 (E)便於灌溉。

解答 D

()56. 西歐的黃金水道萊茵河，其主流流連貫數國，但並未經過下列哪一個國家？ (A)法國 (B)德國 (C)瑞士 (D)荷蘭 (E)比利時。

解答 E

解析 萊茵河上游到下游 C A B D。

()57. (甲)苜蓿；(乙)玉米；(丙)菸草；(丁)燕菁；(戊)馬鈴薯等作物中，哪些是哥倫布由美洲引入歐洲者？ (A)甲丙丁 (B)乙丙戊 (C)丙丁戊 (D)戊甲乙 (E)戊甲丁。

解答 B

()58. 由於海運帶來大批價廉的農產，使得西歐各國在農業經營上紛紛轉型，其中比、荷低地國地區便轉而發展園藝、酪農、飼牧等高度集約的農業，選取這些農業主要在順應哪種趨勢的發展？ (A)都市化 (B)工業化 (C)商品化 (D)專業化 (E)機械化。

解答 A

解析 都市化的結果，為供應都市大量人口的需求。

()59. 早期英國鋼鐵工業設廠所著重的區位要素是： (A)水電 (B)原料 (C)勞工 (D)市場 (E)資本。

解答 B

()60. 工業革命時期，本寧山地由於具備了何種資源，遂使山地周圍成為英國主要工業區所在？ (A)石油 (B)鐵砂 (C)煤礦 (D)石油 (E)天然氣。

解答 C

()61. 十八世紀時，英國最主要的棉花輸入港是： (A)曼徹斯特 (B)格拉斯哥 (C)加地夫 (D)利物浦 (E)倫敦。

解答 D

()62. 一次大戰後，英國國力開始衰退，經濟力下跌。及至 1969 年在北海海域內發現何種資源後，使得英國獲得新的富源，並使其經濟得以復甦？ (A)煤礦 (B)黃金 (C)鈾礦 (D)石油 (E)鐵礦。

解答 D

()63. 英法同屬西歐國家，然而法國在農業發展上卻較英國為佳，請問法國所占有的優勢是在於： (A)地形、氣候 (B)氣候、位置 (C)位置、勞工 (D)勞工、技術 (E)技術、地形。

解答 A

()64. 小明與其法籍筆友方斯瓦通信已久，今年方斯瓦將利用暑假來臺觀光，並在信上強調他已準備好了故鄉波爾多最有名的特產作為見面禮，請問波爾多的名產最可能是： (A)香水 (B)時裝 (C)咖啡 (D)巧克力 (E)葡萄酒。

解答 E

解析 波爾多位於法國西南的加倫河流域，為著名葡萄生產區。

()65. 法國首都巴黎市內的哪一座建物，因係以鋼鐵為主要建材，故以其標誌「鋼鐵時代」的來臨？ (A)凱旋門 (B)羅浮宮 (C)聖母院 (D)艾菲爾鐵塔 (E)龐畢度中心。

解答 D

()66. 小霞自大學服裝設計系畢業後，一直想到歐洲深造。請問下列哪一城市的時裝設計製造的歷史最悠久，其服飾成為世界流行的指標，也是最值得推薦給小霞者？ (A)巴黎 (B)羅馬 (C)倫敦 (D)柏林 (E)曼徹斯特。

解答 A

()67. 下列有關「密斯托拉風」的敘述，何者「錯誤」？ (A)盛行於冬、春兩季 (B)是一股強烈而乾冷的風 (C)此風沿著隆河河谷向北吹 (D)此風帶造成葡萄園、菜園的災害 (E)法國南部隆河河谷一帶最為明顯。

解答 C

解析 由北向南吹。

- ()68. 歐洲諸國中，哪一國家由於地處歐洲心臟位置，鄰國最多，也因此一再捲入歐洲的紛擾中？ (A)法國 (B)德國 (C)英國 (D)波蘭 (E)奧地利。

解答 B

- ()69. 高速公路為德國希特勒主政時所首建，而其興建的原始目的在因應： (A)貿易往來 (B)人客輸運 (C)軍事需求 (D)農產外銷 (E)水運不便。

解答 C

- ()70. 多官方語文是歐洲許多國家的特色，下列哪一個國家同時具有二種以上的官方語文？ (A)瑞典 (B)荷蘭 (C)比利時 (D)西班牙 (E)奧地利。

解答 C

解析 比利時境內主要族群有荷裔與法裔，故荷語、法語為其官方語。

- ()71. 繼燦爛的地中海文明之後，自十六世紀起歐洲文明的重心，已由地中海轉移至大西洋岸的西歐，此種轉變與下列哪些因素有密切關係？(甲)軍事力量的擴張；(乙)航海技術的進步；(丙)宗教文化的傳播；(丁)輕犁的使用；(戊)農業技術的革新。正確者為： (A)甲丙 (B)乙丁 (C)丙戊 (D)甲丁 (E)乙戊。

解答 E


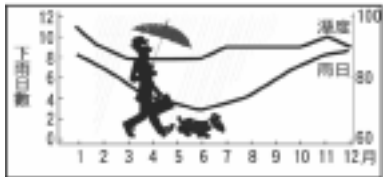
解析 (乙)使航行於大西洋變得較安全。

- ()72. 優越的自然環境是西歐創造文明的基礎，惟西歐何處較不具自然環境上的優越條件？ (A)東南部 (B)西南部 (C)東北部 (D)西北部 (E)中部。

解答 A

解析 東南部為山區。

- ()73. 下圖為英國神探福爾摩斯感受「倫敦」氣候的概況，由圖上可判斷：(甲)平均每年雨日超過半年；(乙)年平均溼度逾 80%；(丙)年雨量高達 1000mm 以上；(丁)年溫差不大 (< 20)；(戊)夏季氣溫平均在 20 以上。正確者為： (A)甲丙 (B)乙丁 (C)丙戊 (D)甲丁 (E)乙戊。



解答 B

解析 (甲)雨日：8+7+5+4+3+4+5+6+7+8+8=69 日；(丙)從此二圖看不出；(戊)夏季最高溫才超過 20 。

- ()74. 西歐有許多地名字尾為 furt、ort 者，係由何種地點或位置發展而成的聚落？ (A)山崗 (B)河階 (C)曲流 (D)沙洲 (E)渡口。

解答 E

- ()75. 西歐成為「世界工廠」與下列哪一項因素關係最密切？ (A)海陸交錯的位置 (B)暖溼的海洋性氣候 (C)相對平坦的地形 (D)四通八達的水運網 (E)資源豐富的丘陵山地。

解答 D

解析 (D)此選項有利其產品、原料的運送，有利工業發展。

- ()76. 就早期人類歷史發展而言，城市興起的主因為何？ (A)農業技術的革新 (B)礦產資源的開發 (C)運輸工具的改進 (D)海上活動的擴展 (E)地理大發現帶來的財源。

解答 A

解析 (A)農業技術革新，糧食有了剩餘，可供應城市的非農業人口。

- ()77. 西歐高度集約化、科學化的農業經營，使得「花卉」也成為哪一國的重要外銷產品之一？ (A)英國 (B)愛爾蘭 (C)法國 (D)荷蘭 (E)比利時。

解答 D

- ()78. 下列有關「西歐」的敘述，何者「錯誤」？ (A)大部分是日耳曼民族 (B)人口以德國最多 (C)人口密度以比利時最高 (D)各國出生率及死亡率均低 (E)是世界上工業化和都市化程度最高地區。

解答 C

解析 人口密度最大是荷蘭。

()79. 法國最值得驕傲的珍寶是什麼？ (A)多樣而豐厚的文化遺產 (B)地中海的陽光帶 (C)大規模生產的葡萄酒 (D)領先國際的流行風潮 (E)發展迅速的科技產業。

解答 A

()80. 「農業活動特別重視灌溉，糧食作物以小麥、大麥為主，果樹則有橄欖、無花果、柑橘、葡萄、檸檬等。」哪一種氣候區的農業特色？ (A)溫帶草原氣候 (B)溫帶沙漠氣候 (C)溫帶季風氣候 (D)溫帶大陸性氣候 (E)溫帶地中海型氣候。

解答 E

解析 地中海氣候冬雨夏乾、雨水又不多，故注重灌溉。

()81. 歐洲各地區中，在地形、氣候、海洋和港灣四方面皆最具優越性的是： (A)東歐 (B)西歐 (C)南歐 (D)北歐。

解答 B

()82. 在西歐人新的飲食習慣中，愛爾蘭人改以何種農作物作為主要糧食？ (A)玉米 (B)馬鈴薯 (C)燕菁 (D)苜蓿 (E)燕麥。

解答 B

()83. 西歐的農業經營較之新大陸地區，競爭力顯然較弱，此與下列哪一項因素有密切關係？ (A)緯度 (B)地形 (C)氣候 (D)耕作技術 (E)經營規模。

解答 E

()84. 下列哪一句話最足以說明「德國位居歐洲的心臟地帶」？ (A)經由各地方發展出整合的文化 (B)是歐洲南北往來及東西交通的要地 (C)擁有歐洲最繁忙且里程數最長的高速公路系統 (D)是歐洲工商最繁榮、科技最發達的中心 (E)是歐洲工礦原料的主要供應國。

解答 B

()85. 英國與丹麥的農業活動，原以栽培穀類作物為主。十九世紀中葉以後，北美洲小麥向歐洲傾銷，英、丹兩國的農民，因穀類作物生產成本相對較高，而紛紛改農耕為畜牧。導致英、丹兩國穀類作物生產成本相對較高的主因是： (A)氣候冷溼 (B)勞力不足 (C)耕地破碎 (D)土壤貧瘠 (E)西風強勁。

解答 A

解析 小麥生長的环境為氣候溫和，雨量適中。

()86. 德國的工業主要集中於魯爾、薩爾和薩克森三大工業區；這三個工業區都是因為擁有哪一種天然資源而逐漸發展起來的？ (A)石油 (B)鐵礦 (C)煤礦 (D)森林 (E)水力。

解答 C

()87. 右圖直線部分為法國主要小麥區。請問：

造成此分布現象的原因為何？ (A)西風背風側 (B)少冰河地形 (C)夏溫較高 (D)地勢較高 (E)水利條件優越。



解答 A

二、綜合題

1. “Brave Heart”「英雄本色」是一部有關中古時代蘇格蘭與英格蘭之間戰爭的歷史電影，場景蒼茫、配樂優美，全劇蘇格蘭風味十足，男主角威廉華勒是一名蘇格蘭的愛國英雄，雖然雄霸一時，但卻無法避免被英格蘭併吞的命運，請回答以下問題：

(1)以下有關不列顛群島的敘述何者「錯誤」？ (A)目前分為兩個國家 (B)語言屬日耳曼語系 (C)宗教皆以新教為主 (D)全境屬古老岩層 (E)在中古時代屬於歐洲文化邊陲地帶。

(2)在此劇中所看到蒼茫的場景中，其地形最主要受到何種作用的影響？ (A)溶蝕 (B)河蝕 (C)風蝕 (D)冰蝕 (E)海蝕。

(3)此劇中霧茫茫的場景與以下何者最有關？ (A)暖流 (B)涼流 (C)寒流 (D)季風 (E)信風。

解答 (1)C (2)D (3)A

解析 (1)北愛爾蘭有新舊教的宗教糾紛。

2. 西歐受到海洋的影響很深，由於擁有優越的自然環境條件，在近代成為全球的政治、經濟、文化中心，請根據以下西歐國家回答下列問題：
(甲)英國；(乙)法國；(丙)德國；(丁)荷蘭；(戊)比利時；(己)瑞士；(庚)奧地利；(辛)愛爾蘭。

- (1)由於海外貿易及殖民，至十九世紀為止，西歐的腹地已廣及世界 1/4 的土地，當時擁有最廣的殖民地，號稱「日不落國」的國家為以下何者？ (A)甲 (B)乙 (C)丙 (D)丁 (E)戊。
- (2)若以本身的自然條件來看，農業條件最佳的國家為以下何者？ (A)甲 (B)乙(C)丙 (D)丁 (E)戊。
- (3)哪一國率先建立高速公路系統，將國內的交通整合成一體？ (A)甲 (B)乙 (C)丙 (D)丁 (E)戊。
- (4)又哪一國擁有目前全球速度最快的高速鐵路？ (A)甲 (B)乙 (C)丙 (D)丁 (E)戊。
- (5)哪一國因氣候冷溼，不適合種植穀物，自從新大陸作物引進之後，馬鈴薯成為主要作物？ (A)甲 (B)丙 (C)丁 (D)庚 (E)辛。
- (6)哪一國以阿爾卑斯山的湖光山色稱著，觀光業特別發達？ (A)乙 (B)丙 (C)丁 (D)戊 (E)己。

解答 (1)A (2)B (3)C (4)B (5)E (6)D

3. (甲)中國西南部；(乙)中南半島；(丙)西亞地區；(丁)東歐地區；(戊)西歐地區。上列哪些地區因地形的阻絕而造成眾多的民族族系分布？(代號即可)

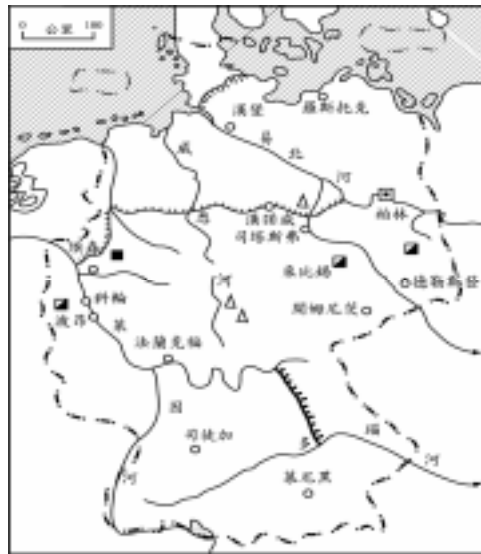
解答 甲乙丁

4. 經由海外貿易與殖民，十九世紀後，西歐掌握了世界 1/4 的腹地，成為工業發達的區域。統而言之，各國能擺脫先天缺陷，極力發揮擅長所致。

- (1)(甲)氣候溫潤耕地廣大與礦藏；(乙)煤產與海外殖民兼貿易；(丙)認真踏實的民族性與工作時間長；(丁)能聯結內陸水運與海洋航線的優越位置。這些大致依序為哪些國家的成功因素？ (A)英、比荷、德、法 (B)比荷、英、法、德 (C)德、英、比荷、法 (D)法、英、比荷、德 (E)法、英、德、比荷。
- (2)西歐農業競爭力相對較弱的關鍵因素是： (A)勞力不足 (B)規模不大 (C)不夠專業化 (D)太過粗放 (E)投資不足。
- (3)地理大發現使西歐在新大陸找到適應本地風土的作物，如土壤貧瘠、氣候涼溼的愛爾蘭，其新的糧食作物是： (A)小麥 (B)玉米 (C)馬鈴薯 (D)稻米 (E)苜蓿。

解答 (1)E (2)B (3)C

5. 右圖為德國水系分布圖：



- (1)勞得威運河可改善多瑙河的哪一項航運缺點？ (A)坡陡流急 (B)水位變化大 (C)冬季結冰期長 (D)夏季洪患 (E)出口方向不佳。
- (2)基爾運河連結哪兩個水域？ (A)易北河——萊茵河 (B)波羅的海——北海 (C)北海——黑海 (D)萊茵河——馬士河 (E)易北河——多瑙河
- (3)萊茵河成為德國最大工業帶的區位條件有便利的水運系統與： (A)富水電 (B)產煤 (C)產鐵 (D)政府政策 (E)風景優美。

解答 (1)E (2)B (3)B

6. 萊茵河為歐洲航運最發達的河流，德國人常暱稱該河為德國之父，全國近 1/3 的人口居住於此，為德國人口密度最高、工業最發達的地區。請問：

- (1)萊茵河兩岸城堡林立，這些城堡大多建於中古封建時期，當時各領主興建城堡的目的為何？ (A)作為行政中心 (B)作為幽禁犯人的地方 (C)作為軍事要塞 (D)作為渡假勝地 (E)對往來的船隻徵稅。
- (2)(甲)廉價的水電；(乙)盛產石油、天然氣；(丙)豐富的煤礦；(丁)便利的水運；(戊)廉價的勞工。上述哪些區位條件是促使萊茵河流域成為德國最大工業帶、經濟中樞地帶的基礎？ (A)甲丙 (B)甲丁 (C)乙戊 (D)丙丁 (E)丁戊。
- (3)下列哪一國家位居萊茵河流域工業原料進口及產品出口的轉運位置？ (A)德國 (B)法國 (C)荷蘭 (D)比利時 (E)丹麥。

解答 (1)E (2)D (3)C

解析 (1)萊茵河自古即為歐洲航線主軸。(3)荷蘭的鹿特丹為國際轉口大港。

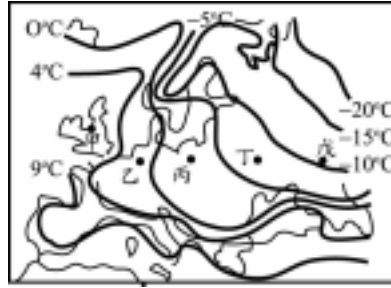
7. 西歐是歐洲工業化最早的地區，各國的工業發展均有其特色。試問：

- (1)就工業區位的影響因素而言，英國和德國早期工業發達，乃因其具有哪一項條件？ (A)動力 (B)原料 (C)資金 (D)勞工 (E)交通。
- (2)近 30 年來，英國工業發展最迅速的地區是蘇格蘭東西海岸和不列顛東北部的昔得蘭群島、奧克尼群島，和下列哪一項因素的關係最為密切？ (A)加入歐洲聯盟 (B)發現北海石油 (C)煤礦產量豐富 (D)海上交通發達 (E)內陸過度擁擠。

解答 (1)A (2)B

8. 右圖為歐洲一月等溫線分布圖，試問：

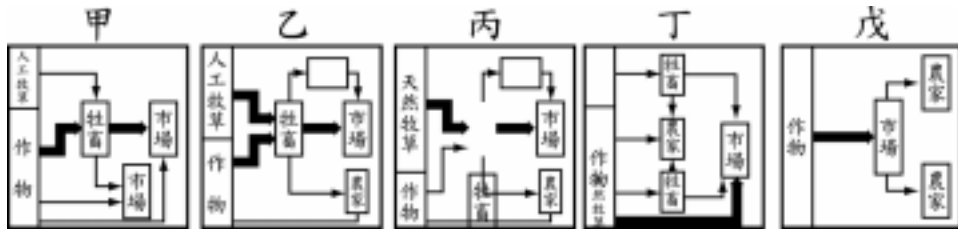
- (1)圖中等溫線的分布受到下列哪一因素的影響最為明顯？ (A)地勢高低 (B)盛行西風 (C)北大西洋暖流 (D)天然植被疏密 (E)降雨空間分布。
 (2)圖中哪一地區出現最明顯的冬溫正偏差現象？ (A)甲 (B)乙 (C)丙 (D)丁 (E)戊。



解答 (1)C (2)A

9. 英國和丹麥都是高度發展的國家，兩國的第一級產業有其共同特徵。試問：

- (1)英國和丹麥長期以來牧重於農，是受到下列哪些因素的影響？(甲)地形崎嶇；(乙)氣候冷溼；(丙)勞力不足；(丁)交通不便；(戊)北美小麥傾銷。 (A)甲丙 (B)甲丁 (C)乙丁 (D)乙戊 (E)丙戊。
 (2)下圖是五種農牧業活動的形式圖，其中哪些最可能出現在此兩個國家？ (A)甲乙 (B)乙丙 (C)丙丁 (D)丁戊 (E)甲丙。

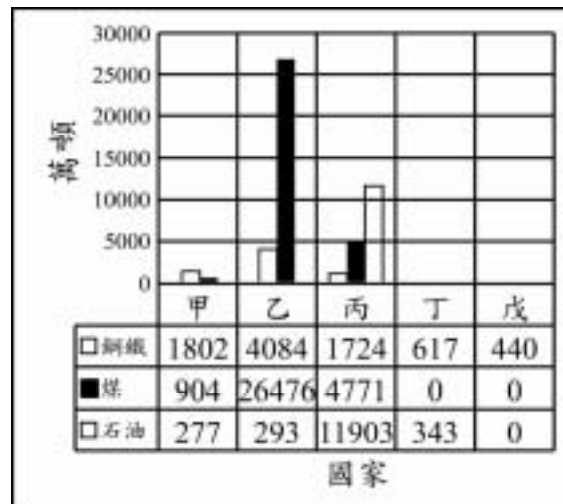


解答 (1)D (2)A

解析 (2)甲、丁兩圖皆強調牲畜的比重，即為牧業特徵。

10. 右圖是 1994 年奧地利、荷蘭、英國、法國、德國五國的礦產資源柱狀圖，每一個柱狀圖由左向右依序是鋼鐵、煤、石油，試問：

- (1)甲 戊中何者代表英國？ (A)甲 (B)乙 (C)丙 (D)丁 (E)戊。
 (2)乙國具有下列哪一項特徵？ (A)世界著名的低地國 (B)曾經由分裂到統一 (C)世界最早的工業化國家 (D)歐洲面積最大的文化國 (E)音樂及旅遊業興盛的內陸國。



解答 (1)C (2)B

解析 甲：法國 乙：德國 丙：英國 丁：荷蘭 戊：奧地利。

11. 巴黎盆地與倫敦盆地在地质时代原為同一盆地的兩側，其後因地殼變動才被多佛海峽隔離，分別位於大陸和島嶼上。因為地質史的關係密切，今天兩個盆地周圍同樣出現部分單斜脊的構造，其地形表現稱為單面山，如右圖所示。試問：

- (1)下圖中單面山和豬背嶺地形成因的差異，和下列哪一項因素的關係最密切？ (A)時間長短 (B)營力種類 (C)營力來源 (D)岩層變位 (E)岩層排列。
 (2)巴黎盆地與倫敦盆地的單斜脊，分別出現於何處？ (A)巴黎盆地西側，倫敦盆地西側 (B)巴黎盆地東側，倫敦盆地東側 (C)巴黎盆地西側，倫敦盆地東側 (D)巴黎盆地東側，倫敦盆地西側 (E)巴黎盆地北側，倫敦盆地南側。
 (3)今天巴黎盆地與倫敦盆地的單斜脊以及多佛海峽的形成，和下列哪些作用的關係最為密切？(甲)褶曲作用；(乙)斷層作用；(丙)崩壞作用；(丁)火山作用；(戊)差異侵蝕。 (A)甲乙丙 (B)乙丙丁 (C)丙丁戊 (D)甲丁戊 (E)甲乙戊。



解答 (1)E (2)D (3)E

解析 (1)此為軟硬岩排列的結果。(2)巴黎、倫敦分別位於此盆地的東、西兩側。

12. 「透過活躍的海外貿易及殖民，西歐突破了地理空間的限制，在累積了大量資金及掌握世界資源分配後，以工業革命所蓄積的動力，成為全球最早工業化和現代化的地區。」以下各題是對西歐各國某些特色的描述，請選出它所代表的正確國家。選項：(A)英國 (B)法國 (C)德國 (D)

愛爾蘭 (E)荷蘭。

(1)「農業活動特別重視灌溉，糧食作物以小麥、大麥為主，果樹則有橄欖、無花果、柑橘、葡萄、檸檬等。」此為哪一種氣候區的農業特色？ (A)溫帶草原氣候 (B)溫帶沙漠氣候 (C)溫帶季風氣候 (D)溫帶大陸性氣候 (E)溫帶地中海型氣候。

(2)就地形、氣候、民族和宗教而言，歐洲哪一地區最為複雜？ (A)東歐 (B)西歐 (C)北歐 (D)南歐 (E)中歐。

解答 (1)E (2)A

13. 「我不在家，一定在咖啡館，我不在咖啡館，也一定在去咖啡館的路上。」十八世紀後，咖啡館不但是西歐人日常的生活空間，也是文學、藝術、思想、政治議論的場所，請回答下列問題：

(1)上述西歐人新的飲食習慣形成，顯然與下列哪一項因素有密切關係？ (A)變化多端的天氣 (B)農業技術的革新 (C)海上運輸的發達 (D)城市文明的興起 (E)工業革命後的悠閒。

(2)該項因素同時促成西歐若干地區產生哪些改變？(甲)農業趨向高度集約；(乙)農業愈趨粗放；(丙)三年輪耕制已不再休耕；(丁)大規模增加咖啡、可可、甘蔗等新作物的種植；(戊)易麥田為牧場。正確者為： (A)甲丙丁 (B)甲丙戊 (C)乙丙丁 (D)乙丙戊 (E)丙丁戊。

解答 (1)C (2)B

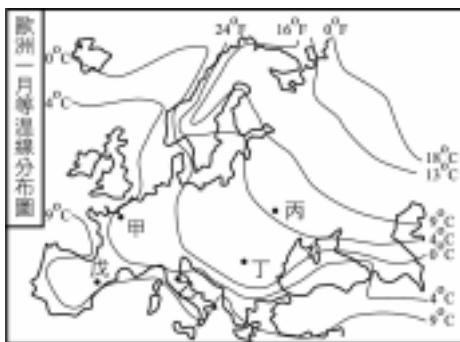
解析 (2)(丁)雖然咖啡等已傳入歐洲，但這些熱帶作物不適合歐洲的氣候，故仍以輸入為主。

14. 右圖為歐洲 1 月等溫線分布圖，請依圖回答下列問題：

(1)哪一國全年氣溫在 0 以上？ (A)波蘭 (B)德國 (C)奧地利 (D)荷蘭 (E)捷克。

(2)圖中哪一區具備最明顯的「氣溫正偏差」？ (A)甲 (B)乙 (C)丙 (D)丁 (E)戊。

(3)圖中等溫線分布明顯受到何種因素影響？ (A)盛行西風 (B)北大西洋暖流 (C)地形高低 (D)天然植被多寡 (E)雨量的分布。



解答 (1)D (2)A (3)B

15. 英國為近代工業革命的先驅，昔日曾為歐洲經濟力最強大的國，目前工業產值仍居世界第六位，試回答下列有關問題：

- (1)帶動英國工業革命的是何種能源礦產？
- (2)近年英國在何處發現何種新能源而成為工業發展的續命丹？
- (3)哪兩項工業的精進，曾使英國首度居於西歐工業的領先地位？
- (4)英國的鋼鐵及造船工業多分布於沿海，主要與哪一項區位因素有密切關係？
- (5)英國自何時起才完全納入歐洲經濟圈，擴大其經濟規模和市場活力？

解答 (1)煤礦 (2)北海、石油 (3)紡織、鋼鐵 (4)交通 (5)英法海底隧道開通後

16. 萊因河流域是德國最大的工業地帶，亦是經濟的中樞，並引領德國成就為世界第三大經濟強國。試回答下列問題：

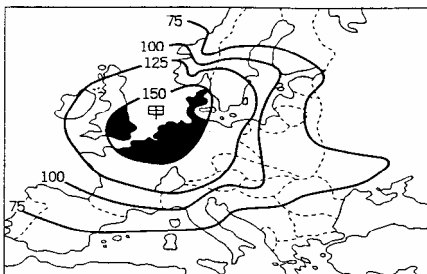
- (1)萊因河流域成為德國最大的工業地帶，係因具有哪些區位條件？
- (2)德國歷經兩次大戰的破壞，均能迅速恢復工商業的繁榮，最主要的原因為何？
- (3)哪一國居於萊因河流域工業原料進口及產品出口的轉運位置？
- (4)目前德國產值最高的工業類別為何？

解答 (1)豐富的煤產、便利的水運 (2)實事求是的工作態度和成功的技職教育 (3)荷蘭 (4)汽車工業

17. 圖中的數值係農業集約度指數，指數愈高，表示集約度愈大；反之則愈小。請問：

- (1)圖中(甲)所在的海域是哪個海？ (A)北海 (B)白海 (C)地中海 (D)波羅的海 (E)亞得里亞海。
- (2)酪農業最可能出現在多少集約度指數的地區？ (A)75 以下 (B)75 100 之間 (C)100 125 之間 (D)125 150 之間 (E)150 以上。

(3)圖中集約度指數分布的空間差異與下列哪一項因素關係最密切？ (A)降雨日數 (B)水利設施 (C)土壤沃度 (D)工業分布 (E)地勢地伏。



解答 (1)A (2)E (3)D

解析 (2)酪農業為集約度甚高之產業。(3)工業化高處都市化亦高，需要大量生鮮蔬果就近供應。

18. 影響氣候的因素包括：(甲)緯度；(乙)盛行風方向；(丙)距海遠近；(丁)洋流；(戊)地形。造成西歐成為全球冬溫正偏差最顯著之地區乃因：

(A)甲 (B)乙 (C)丙 (D)丁 (E)戊。

解答 (1)D

19. 「透過活躍的海外貿易及殖民，西歐突破了地理空間的限制，在累積了大量資金及掌握世界資源分配後，以工業革命所蓄積的動力，成為全球最早工業化和現代化的地區。」以下各題是對西歐各國某些特色的描述，請選出它所代表的正確國家。

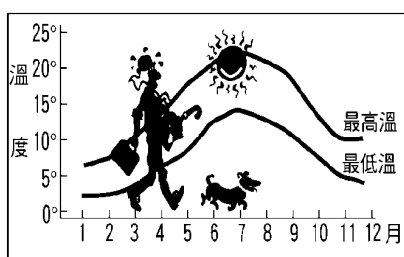
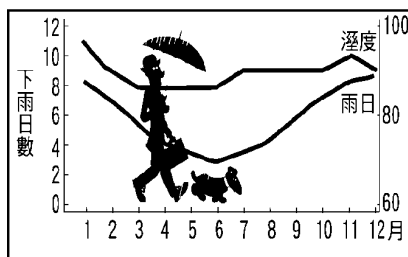
選項：(甲)英國；(乙)法國；(丙)德國；(丁)愛爾蘭；(戊)荷蘭。

- (1)她曾經擁有歐洲最大的船隊，其勢力更推進到亞洲東印度群島，從事香料貿易，並透過發達的轉口貿易，建立其「世界貨棧」的地位。
- (2)她原本因土壤貧瘠、氣候涼溼而缺糧，但在馬鈴薯傳入後，即以其作為主要糧食。她雖然靠海，但居民卻安於農牧，不想冒險出海捕魚。
- (3)今日在全國各地都有其特產的葡萄酒，有些產地的地名甚至成為高級葡萄酒的代名詞。佳釀、美食、藝術、時裝是她傲視群倫之所在，也是令人嚮往一窺究竟的地方。
- (4)她位於歐洲的心臟地帶，地當歐洲十字路口的的位置，是歐洲南北往來及東西交通的要地，自古以來即有許多民族在此定居。她沒有突出的政治或文化中心城市，她的人民認真踏實、講求效率，是她成功的關鍵因素之一。

解答 (1)戊 (2)丁 (3)乙 (4)丙

20. 下圖為倫敦的氣候圖。請問：

- (1)由下圖判定，可知該地當屬何種氣候？
- (2)形成此種氣候的兩大主要影響因素為何？
- (3)本區冬季降雨量較多，依降水類型而言係屬何種雨型？



解答 (1)溫帶海洋性氣候 (2)西風、暖流 (3)鋒面雨（氣旋雨）

21. 右圖為巴黎盆地及其外圍地形示意圖，請問：

- (1)圖中 ①、②、③ 等處，在地表上皆成一側陡、一側緩的外觀，請問此種地形名稱為何？
- (2)此種地形對於法國在防阻哪一鄰國的攻擊上有明顯的阻遏作用？
- (3)由圖可知本區曾受內營力的影響而產生哪一種岩層變位作用？



解答 (1)單斜脊（單面山） (2)德國 (3)褶曲作用

22. 下表為三圃式農業經營方式，田地作長條形，且四界開敞，稱為敞田制。試回答下列有關問題：

- (1)敞田制的農業經營方式昔日盛行於何處？
- (2)施敞田制的地區為何種氣候類型？
- (3)敞田制地區將田地作「長條形」的原因為何？
- (4)敞田制地區將田地分成三塊，每年必有一塊全年休耕，其目的為何？
- (5)目前敞田制已完全改觀，惟仍有跡可循者為何？

| 耕地 年別 | I | II | III |
|----------|----------|----------|----------|
| 第一年 | 秋種黑麥或冬麥 | 春種燕麥或豌豆等 | 全年休耕 |
| 第二年 | 春種燕麥或豌豆等 | 全年休耕 | 秋種黑麥或冬麥 |
| 第三年 | 全年休耕 | 秋種黑麥或冬麥 | 春種燕麥或豌豆等 |

解答 (1)西歐(2)溫帶海洋性氣候 (3)因犁具笨重調頭控制不易 (4)恢復土壤肥力放牧牛羊 (5)長條形的田地

23. 豆花伯想去西歐旅遊見識一番，試回答下列問題：

- (1)若想先看到「艾菲爾鐵塔」的壯觀，應該去哪一個國家？
- (2)若想參觀名牌「徠卡」相機的生產過程，應該駐足於哪一國？
- (3)若想購買目前最流行的服飾、化妝品，應該去哪一國？
- (4)若想欣賞遍布田野、丰姿卓約的鬱金香，應該留連於哪一國？

解答 (1)法國 (2)德國 (3)法國 (4)荷蘭

24. 下圖為巴黎盆地周圍地形剖面圖，試回答：

(1)盆地東側足以作為屏障的是何種特殊地形？ (A)單面山 (B)斷層崖 (C)網流 (D)台地 (E)高原。

(2)該地形的形成過程是： (A)先斷層後侵蝕 (B)先侵蝕後斷層 (C)先侵蝕後褶曲 (D)先褶曲後侵蝕 (E)先斷層後褶曲。

(3)圖中 1 2 地區，主要為何種農作的栽培區？ (A)小麥 (B)馬鈴薯 (C)葡萄 (D)鮮花 (E)熱帶栽培業。



解答 (1)A (2)D (3)C

解析 (1)此地形兩側一陡一緩，故為單面山。(3) 為香檳區，種植葡萄為主。